

Finden Sie den Funktionsgraph der zugehörigen linearen Funktion und vervollständigen Sie die vorgegebene Wertetabelle:

x	0	1	2	3	4
y					

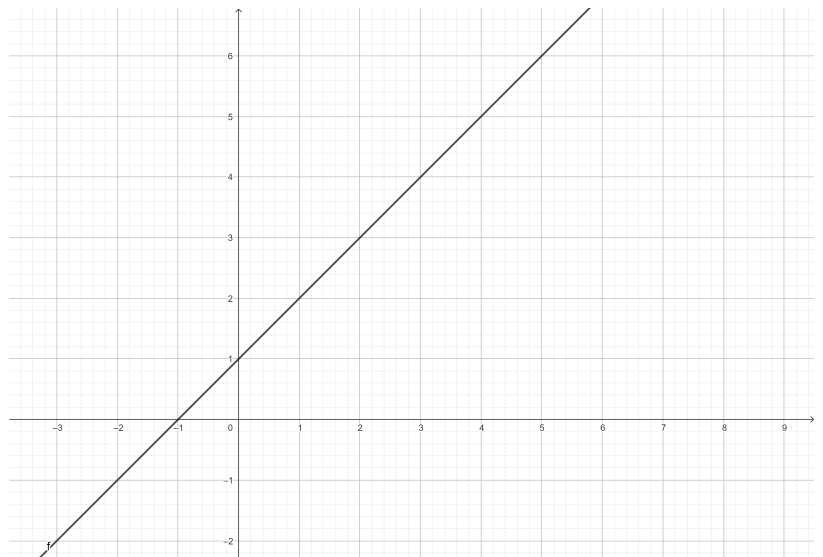


Figure 1: Bild1

Finden Sie den Funktionsgraph der zugehörigen linearen Funktion und vervollständigen Sie die vorgegebene Wertetabelle:

x	0	1	2	3	4
y					

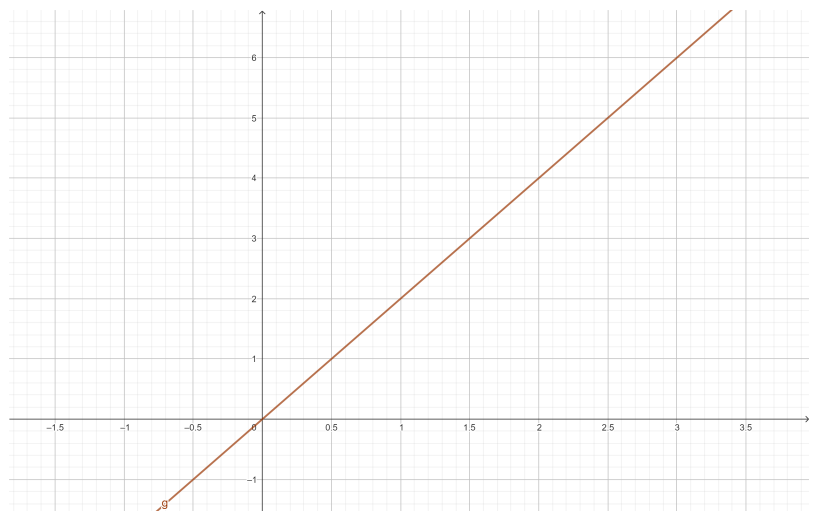


Figure 2: Bild1

Finden Sie den Funktionsgraph der zugehörigen linearen Funktion und vervollständigen Sie die vorgegebene Wertetabelle:

x	0	1	2	3	4
y					

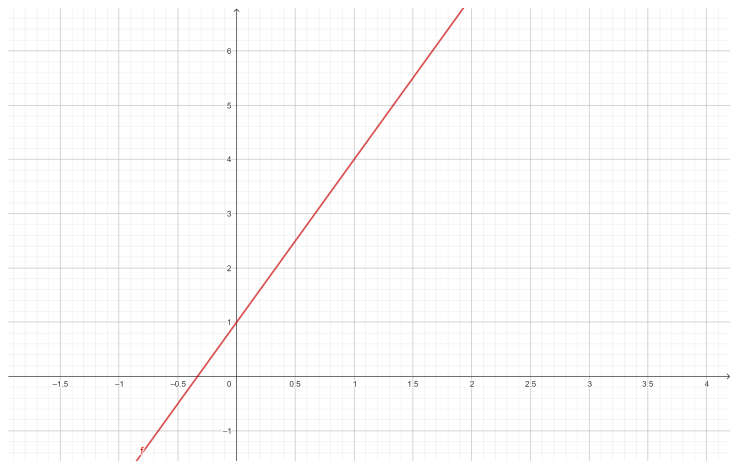


Figure 3: Bild1

Finden Sie den Funktionsgraph der zugehörigen linearen Funktion und vervollständigen Sie die vorgegebene Wertetabelle:

x	0	1	2	3	4
y					

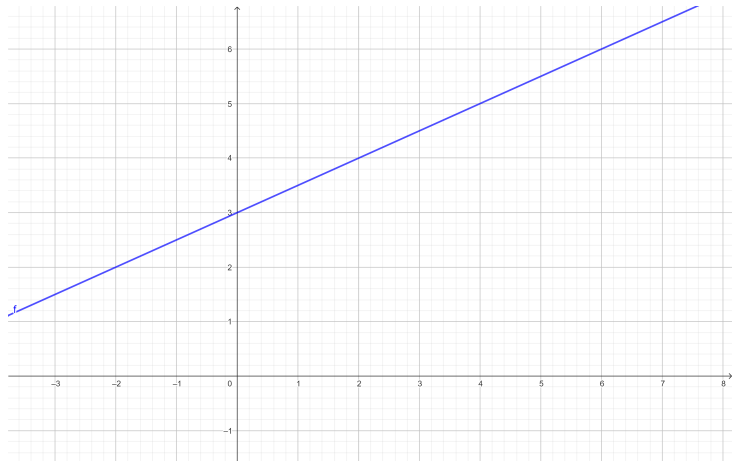


Figure 4: Bild1

Finden Sie den Funktionsgraph der zugehörigen linearen Funktion und vervollständigen Sie die vorgegebene Wertetabelle:

x	0	1	2	3	4
y					

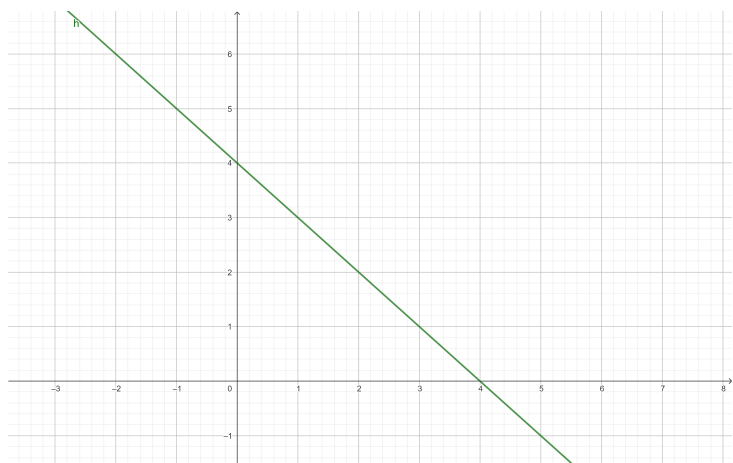


Figure 5: Bild1